

〔社 会〕

○ 実施時間 【10:40~11:20】(40分)

○ 次の注意をよく読んでおくこと。

- (1) 「始め」の合図があるまで問題用紙を開かないこと。
- (2) 問題は 1 ~ 3、19ページまであります。
- (3) 答えはすべて解答用紙の解答らんにはっきりと、ていねいに書きなさい。
- (4) 答えを直すときは、きれいに消してから書きなさい。
- (5) 内容に関する質問は受け付けません。
- (6) 気分が悪くなったり、トイレに行きたくなったりしたら、手をあげて監督^{かんとく}の先生に合図しなさい。
- (7) 「終わり」の合図があつたら、直ちに筆記用具を置き、解答用紙が回収されるまで待っていないさい。
- (8) 解答上の注意
字数指定のあるものは、句読点〔。、〕も一字と数えること。

受験 番号		氏 名	
----------	--	--------	--

1 社会科の授業における次の対話文を読み、あとの問いに答えなさい。

先生：夏休みの宿題として、さまざまな旅行の形態について調べてきてもらいました。今日の授業では、調べてきた内容を発表し、議論しましょう。

生徒A：私は、家族で福井県に旅行に行った際に、「産業観光」について調べてきました。「産業観光」とは、歴史的、文化的価値のある産業文化財や、生産現場、製品などを観光資源とし、それらを通じてのものづくりの心に触れるとともに、人的交流を促進する観光活動です。越前市は、日本観光振興協会が主催している「第16回 産業観光まちづくり大賞」で金賞を受賞しています。

先生：私も福井県には何度か行ったことがあります。福井県といえば、鯖江市の（Ⅰ）などが思い浮かびますが、越前市の（Ⅱ）も有名ですよ。

生徒C：越前市のホームページを見たところ、海外出身の方が越前市のものづくりを体験したり、現地の食を楽しんでいたりする記事が載っていました。

生徒E：ほかにはどの自治体を受賞していたのですか？

生徒A：① 新潟県新発田市、② 佐賀県鹿島市、③ 奈良県田原本町などの企業や団体が、それぞれ受賞していました。

生徒B：私は、東京都の自然環境をめぐる旅について調べました。檜原村では、つるカゴの手作り体験や車のタイヤチューブを使った川下りなど、さまざまな体験ができます。また、東京から南に約1000km離れた④ 小笠原諸島でも、世界自然遺産に登録された常緑の森でのフィールドツアーや、ホエールウォッチングなどを体験できるツアーが用意されています。⑤ 大都市の印象が強い東京都でも、豊かな自然と触れ合える機会があることに驚きました。

先生：「エコツーリズム」と呼ばれるものですね。自然環境や歴史文化など、地域固有の魅力を観光旅行者に伝えることにより、その価値や大切さを理解してもらい、環境保全につながっていくことを目指す観光の形です。

生徒C：私は、「ヘルスツーリズム」と呼ばれる旅行の形態について調べました。日本語では健康旅行などと訳されるこの旅は、自然豊かな地域を訪れ、自然、⑥ 温泉や身体に優しい料理を味わい、心身ともに癒し、健康を回復・増進・保持するというものです。⑦ 群馬県の草津温泉では、温泉だけでなく、食事や森林浴アクティビティなどがセットになったツアーが提供されています。

生徒B：群馬の温泉といえば、アニメ映画「千と千尋の神隠し」で千尋が働くことになる銭湯「油屋」のモデルになったとされる四万温泉にある積善館も有名です。

生徒D：私は、東日本大震災にまつわる遺構を訪ねてきました。福島県浪江町にある請戸小学校は、震災から全員が避難することができた「奇跡の学校」としても知られています。倒壊を免れた校舎に刻まれた脅威と、全員避難することができた経験を伝えるため、2021年から震災遺構として一般公開されています。また、同じく大きな被害がでた（Ⅲ）南三陸町では「語り部バス」という取り組みがなされていました。現地のホテルスタッフの方が「語り部」として、震災当時の体験や様子を伝えながら町をバスで案内するという試みです。町の様子を見るだけではわからない実体験や教訓などを知ることができました。

先生：とても大事な体験になりましたね。Dさんの旅は、戦争や災害、迫害、差別などの悲しい出来事をテーマにした「ダークツーリズム」のひとつだと考えられます。この⑧「ダークツーリズム」にはさまざまな意義がありますが、同時に課題もあると言われていています。東日本大震災にまつわる旅では、「ホープツーリズム」という言葉が使われていますね。

生徒E：私は、「聖地巡礼」と呼ばれる旅について調べました。「聖地巡礼」とは、もともとは宗教において重要な意味を持つ場所（聖地）を巡ることですが、日本では漫画・アニメのファンが作品に関連する場所を「聖地」に見立てて訪ねることを意味する言葉としても使われています。例えば、（Ⅳ）湾をのぞむことができる、江ノ島電鉄・鎌倉高校前駅近くの踏切は、漫画を原作としたテレビアニメ「SLAM DUNK」のオープニングに登場することで有名です。

生徒A：漫画・アニメは、海外でも日本の文化として広く知られていますし、私がかつてそこを訪れた際には、外国人観光客の姿も数多くみられました。2022年12月に「SLAM DUNK」のアニメ映画が公開されたこともあり、観光客が急増しているようです。

生徒B：先生はどこかに行かれましたか？

先生：私は日本を離れ、ヨーロッパを旅してきました。パリやベルリンを観光したのち、⑨ ポーランドの^{きょうせいしゅうようじょあど}アウシュヴィッツ・ビルケナウ強制収容所跡に行ってきました。ここは、第二次世界大戦中にユダヤ人をはじめとした多くの方が収容・殺害された地として有名です。日本語によるガイドをお願いすることもできますし、さまざまな旅行会社が企画するツアーがありました。

ここまで皆^{みな}さんに発表してもらった旅行の形態は、大きくいえば「ニューツーリズム」と呼ばれるもので、現地での体験を重視する旅行です。こうした旅行は、細かなニーズへの対応によって、住民の負担が大きくなるなどのデメリットもありますが、それぞれの地域の魅力を多くの人に伝えるきっかけにもなります。今回の課題の際には、現地に足を運ぶことができなかった人もいましたが、よかったら実際にその地域を訪ねてみてください。

問1 空らん（Ⅰ）・（Ⅱ）に当てはまる語句の組み合わせとして正しいものを下から1つ選び、記号で答えなさい。

- | | |
|---------------|---------|
| ア. Ⅰ - 楽器 | Ⅱ - 製菓 |
| イ. Ⅰ - 楽器 | Ⅱ - 将棋駒 |
| ウ. Ⅰ - 楽器 | Ⅱ - 和紙 |
| エ. Ⅰ - 眼鏡フレーム | Ⅱ - 製菓 |
| オ. Ⅰ - 眼鏡フレーム | Ⅱ - 将棋駒 |
| カ. Ⅰ - 眼鏡フレーム | Ⅱ - 和紙 |
| キ. Ⅰ - 漆器 | Ⅱ - 製菓 |
| ク. Ⅰ - 漆器 | Ⅱ - 将棋駒 |
| ケ. Ⅰ - 漆器 | Ⅱ - 和紙 |

問2 空らん（Ⅲ）に当てはまる都道府県名を漢字で答えなさい。

問3 空らん（Ⅳ）に当てはまる語句を漢字で答えなさい。

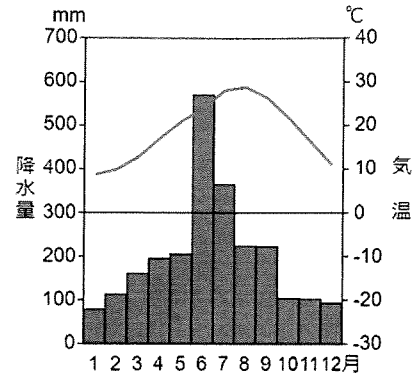
問4 下線部①・②・③の都道府県と、その都道府県についての説明の組み合わせとして正しいものを下のア～カから1つ選び、記号で答えなさい。

- A 陶磁器で有名な都市が複数あり、近年は半導体関連企業が集まっている。
- B 幕末から金魚の養殖がおこなわれており、現在でも販売数は全国1位である。
- C 沿岸部の平野に位置する都市では、金属洋食器の生産が有名である。

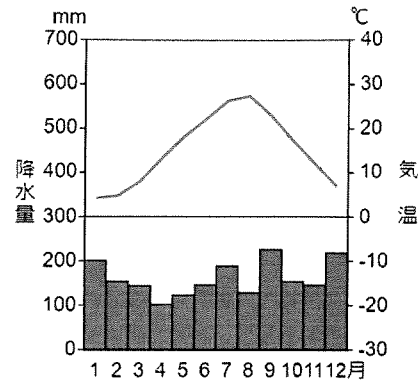
	ア	イ	ウ	エ	オ	カ
新潟県	A	A	B	B	C	C
佐賀県	B	C	A	C	A	B
奈良県	C	B	C	A	B	A

問5 下の雨温図から、下線部④のものを1つ選び、記号で答えなさい。

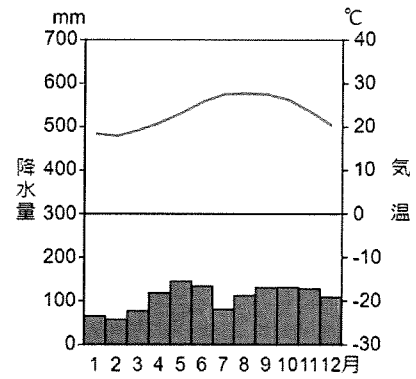
ア.



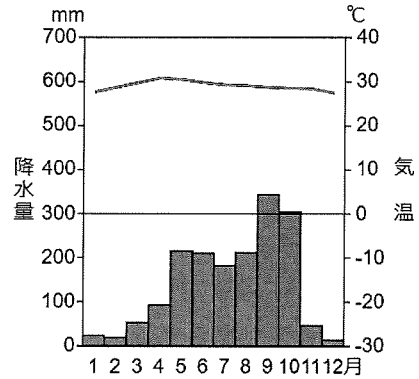
イ.



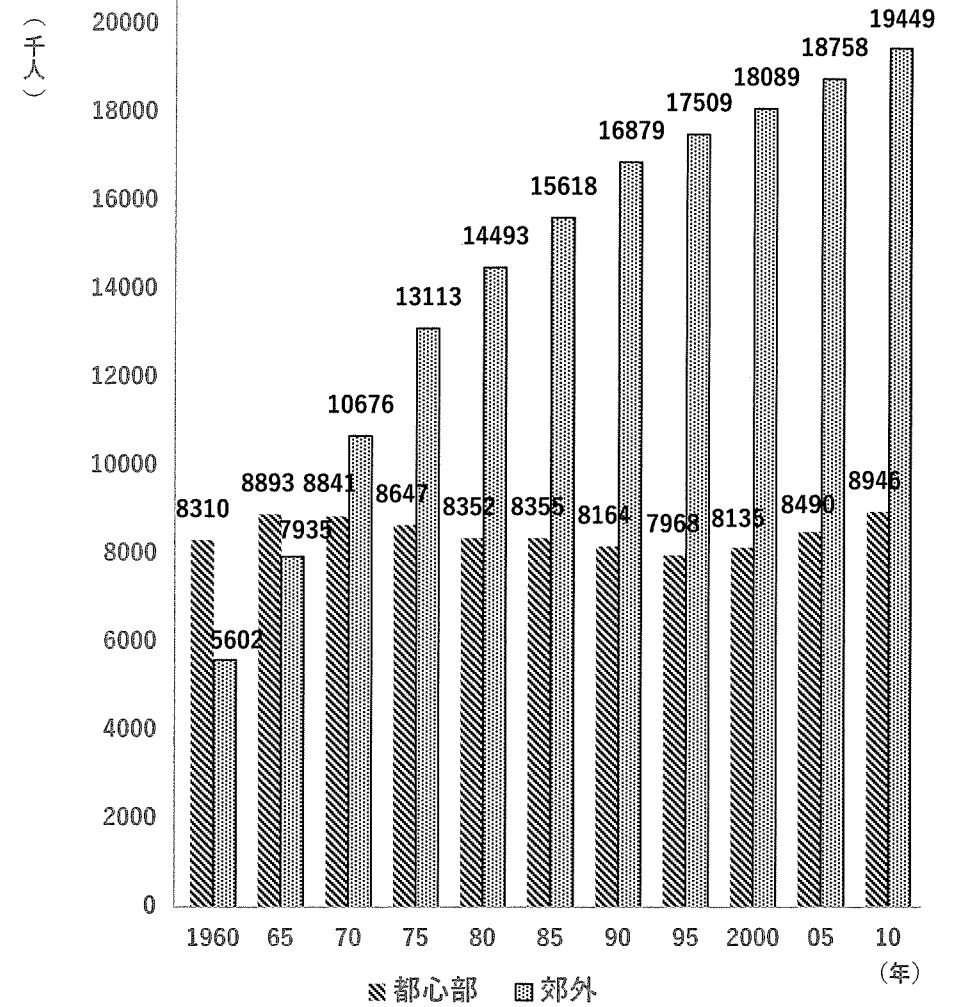
ウ.



エ.



問6 下線部⑤に関連して、下のグラフは、首都圏の人口の推移をあらわしたものです。グラフを必ず参考にしながら、人口推移の特徴について説明しなさい。その際、1970年代以降の変化、90年代後半以降の変化に着目しなさい。



(内閣府ホームページより作成)

問7 下線部⑥に関連して、温泉地では、地下の地熱エネルギーを利用して地熱発電が行われることがあります。地熱発電が、太陽光、風力などの再生可能エネルギーを用いた発電と比べて優れている点を、考えて書きなさい。

問8 下線部⑦に関連して、群馬県の嬭恋村では、一般的に春と冬が旬のキャベツを旬とは異なる季節に栽培・出荷しています。嬭恋村で行われている栽培の方式と、その内容についての組み合わせとして正しいものを下から1つ選び、記号で答えなさい。

- ア. 方式－促成栽培
内容－冬でも暖かい気候を利用して、ほかの地域より早い時期に出荷する。
- イ. 方式－促成栽培
内容－夏でも涼しい気候を利用して、ほかの地域より遅い時期に出荷する。
- ウ. 方式－抑制栽培
内容－冬でも暖かい気候を利用して、ほかの地域より早い時期に出荷する。
- エ. 方式－抑制栽培
内容－夏でも涼しい気候を利用して、ほかの地域より遅い時期に出荷する。

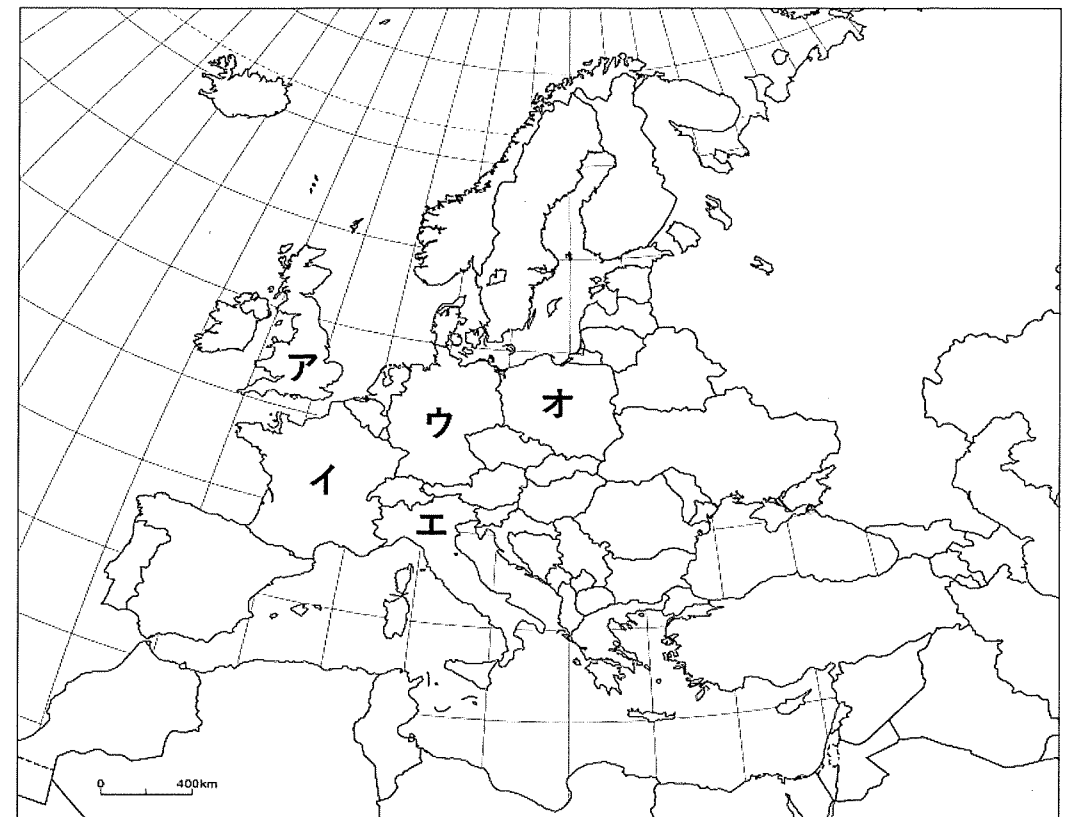
問9 下線部⑧にあるような意義と課題について述べた文としてふさわしくないものを下から1つ選び、記号で答えなさい。

- ア. 多くの人を訪れることで、悲しい出来事についての記憶や教訓を受け継いでいくことができる。
- イ. 観光によってもたらされた利益を、その場所を維持するための財源にすることができる。
- ウ. 実際に人びとが大きな被害を受けた事実がツアーの対象となるため、加害の事実は対象とならない。
- エ. 悲しい出来事を題材にした旅であるため、かえってその場所のイメージを悪くしてしまう可能性がある。

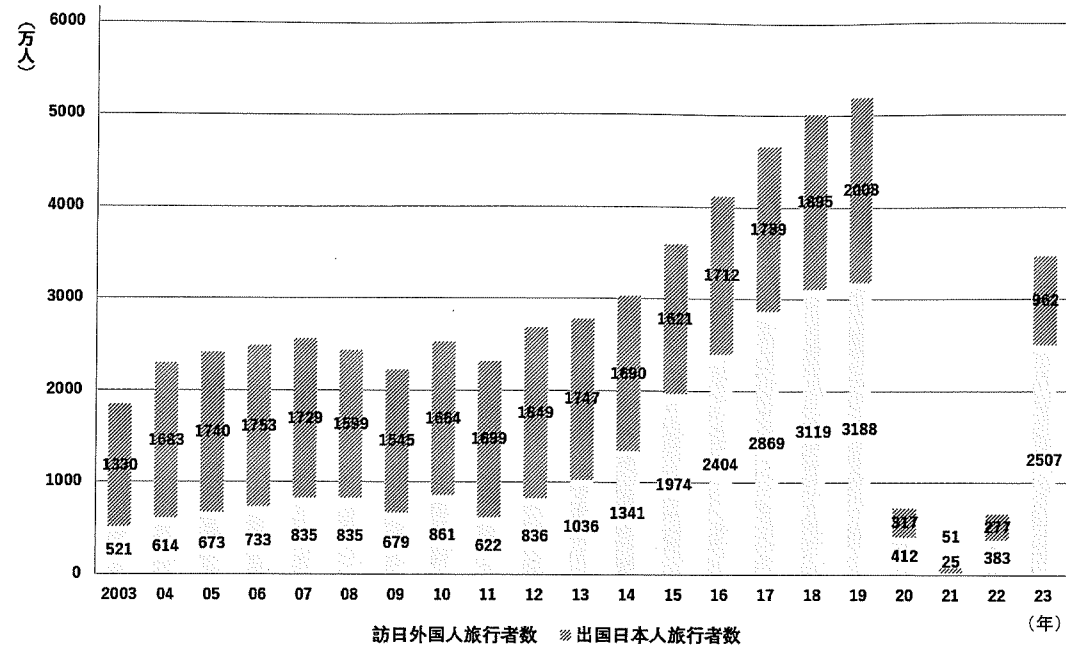
問10 先生の旅は、生徒A～Eの調べた旅行の形態のうち、どれに当てはまると思われますか、最も近いものを下から1つ選び、記号で答えなさい。

- ア. 生徒A イ. 生徒B ウ. 生徒C エ. 生徒D オ. 生徒E

問11 下線部⑨の場所として正しいものを下の地図から1つ選び、記号で答えなさい。



問12 次のグラフは、訪日外国人旅行者数および出国日本人数の過去20年間の推移をまとめたものです。次の(1)・(2)の問いにそれぞれ答えなさい。



訪日外国人旅行者数 ※ 出国日本人旅行者数

(年)

(観光庁ホームページより作成)

このページに設問はありません

- (1) グラフには訪日外国人旅行者数の推移が記されていますが、外国人が訪れる旅行のことを何といいますか、カタカナで答えなさい。
- (2) 2020年から2022年には、グラフの値が^{きょくたん}極端に小さくなっていることが読み取れます。なぜそのようなになったのか、説明しなさい。

2 次の文章を読み、あとの問いに答えなさい。

[1] 地域と地域の交易は、① 縄文時代にはすでに始まっていたと考えられています。これらの交易は、貨幣を用いずに物々交換で成り立っていたと思われています。のちに、7世紀後半の天智天皇の時代には日本最古の貨幣と言われる金属貨幣が存在したことが確認されています。天智天皇の死後、その後継ぎをめぐる壬申の乱に勝利した天武天皇は、日本最古の銅銭と言われる(1)の使用を命じました。この(1)は、藤原京の建設費用を支払うために作られたと考えられています。

[2] (2)と呼ばれる貨幣は、奈良時代に入る直前の708年に元明天皇によって発行されました。この貨幣が発行された目的は、平城京建設の費用を支払うためだと言われています。(2)は、平城京とその周辺では使用されましたが、それ以外にはあまり流通しなかったようです。平安京に都が移され、② 平安時代中期になると、銅の生産量が落ちたことや新たな都の建設もされなかったことなどを理由に、貨幣の発行が停止されます。しかし、平清盛の時代に中国から多くの宋銭を輸入していたように、人々は貨幣の使用を続けていました。

[3] ③ 織田信長は、天下統一を目指して各地で戦いを続け、鉄砲を効果的に用いたことで知られる(3)の戦いで武田氏に勝利を収めました。信長は、積極的な統一政策を進めますが、その中で貨幣政策も実施しました。信長が本能寺の変で命を落とし、その統一事業を受け継いだ④ 豊臣秀吉は、天下統一を達成したのちに朝鮮侵略を行います。その多額の軍事費の支払いのために、新たな銀貨が作られたとも言われています。

[4] ⑤ 江戸時代において、「東の金遣い・西の銀遣い」と言われるように、江戸と上方(京都・大坂)という遠く離れた二大市場で、基準となる貨幣は別々でした。そこで、金貨と銀貨を交換する(4)と呼ばれる商人が誕生しました。江戸時代に、東日本で金貨が用いられたのは、東日本に金山が多かったためでした。一方で、西日本で銀貨が用いられたのは、銀山が多かったことと、⑥ 外国との貿易が行われており、貿易で用いられる銀貨が必要とされたからでした。

[5] ⑦ 明治時代に入ると、新政府は欧米諸国を参考に貨幣制度の近代化を進めました。そして1885年には、日本初の中央銀行である日本銀行が日本銀行券の発行を始めます。このときに発行された一円券は、現在の日本でも使用できる最古の紙幣です。20世紀に入ると、日本は日露戦争、⑧ 第一次世界大戦、満州事変、日中戦争、太平洋戦争と多くの戦争を経験しました。そして、日本が進出した国や地域でも貨幣の発行は行われました。例えば、日本が進出した朝鮮半島では、日本の初代内閣総理大臣であった(5)が韓国統監となり、その意見で韓国銀行が設立され、韓国銀行券が発行されました。

問1 空らん(1)～(5)に入る適切な語句をそれぞれ漢字で答えなさい。

問2 下線部①の特徴について述べた次の文A・Bの正誤の組み合わせとして正しいものを下から1つ選び、記号で答えなさい。

A 人々は、石包丁のような磨製石器や、うす・きねのような木器を用いて生活をしてきた。

B 人々は、狩りをして食糧を手に入れていて、狩りを指導する人物が登場するなど、社会に身分の差が存在した。

ア. A-正 B-正 イ. A-正 B-誤

ウ. A-誤 B-正 エ. A-誤 B-誤

問3 下線部②に起きたできごとを述べた文として、誤っているものを下から1つ選び、記号で答えなさい。

ア. 仏教の改革が行われ、最澄が比叡山延暦寺を拠点に天台宗の教えを広めた。

イ. 中国の文化を元にしつつ、日本独自の発展をした国風文化が栄えた。

ウ. 関東地方で平将門が反乱を起こし、新皇を自称した。

エ. 保元の乱に勝利した平氏によって、源頼朝が伊豆に流された。

問4 下線部③が行ったことを述べた文として、誤っているものを下からすべて選び、記号で答えなさい。

- ア. 商人たちの安全のために各地に関所を設置し、商業の発展につとめた。
- イ. キリスト教を保護する一方で、仏教を弾圧し、本願寺を屈服させた。
- ウ. 外国の文化に関心を示し、東南アジアの国々との南蛮貿易を推進した。
- エ. 将軍の足利義昭を都から追放し、室町幕府を滅ぼした。
- オ. 今川義元の軍を尾張の桶狭間の戦いで破った。

問5 下線部④の時代に活躍した画家で、以下の作品を描いたのは誰か、人物名を漢字で答えなさい。



問6 下線部⑤に起きたできごとについて述べた文として、誤っているものを下からすべて選び、記号で答えなさい。

- ア. 江戸幕府は、禁中並公家諸法度によって、朝廷に対しての統制を強めた。
- イ. 島原・天草一揆のあと、幕府は絵踏を強化し、キリスト教を警戒した。
- ウ. 新井白石は、財政難を乗り切るために貨幣の質を落とした。
- エ. 水野忠邦は、株仲間の公認で産業をさかんにし、経済を立て直そうとした。
- オ. 高野長英や渡辺崋山は、モリソン号事件で幕府を批判して処罰された。

問7 下線部⑥に関連して、幕末に欧米諸国との貿易が始まった頃の金と銀の交換比率は以下の表のようになっていました。このような状況で、日本にやってきた外国の商人Aさんは大きな利益を上げたようです。以下のAさんの話を読み、空らんX～Zに当てはまる言葉の組み合わせとして正しいものを下から1つ選び、記号で答えなさい。

日本	金1枚=銀5枚
欧米	金1枚=銀15枚

「まず、私は日本に持ってきた X を Y に交換しました。そして、自分の国にその Y を持って帰国すると、今度はそこで Y を X に交換しました。そうすると、それだけで最初に持っていた X の3倍になりました。私と同じように、日本で X と Y を交換してもうけた外国の商人は多かったようです。しかし、日本では Y が不足したことから質の悪い貨幣が铸造され、Z で経済は混乱しているようです。」

- ア. X-金 Y-銀 Z-物価の上昇
- イ. X-金 Y-銀 Z-物価の下落
- ウ. X-銀 Y-金 Z-物価の上昇
- エ. X-銀 Y-金 Z-物価の下落

問8 下線部⑦に起きたできごとア～エを解答らんに合わせて、起きた順に並べ替えなさい。

- ア. 外務大臣の小村寿太郎のもとで、関税自主権の回復が達成された。
- イ. イギリス船のノルマントン号が沈没し、日本人乗客が全員死亡した。
- ウ. 日本が日露戦争に勝利し、アメリカの仲介でポーツマス条約が結ばれた。
- エ. 外務大臣の陸奥宗光のもとで、領事裁判権が撤廃^{てっばい}された。

問9 下線部⑧について述べた次の文A・Bの正誤の組み合わせとして正しいものを下から1つ選び、記号で答えなさい。

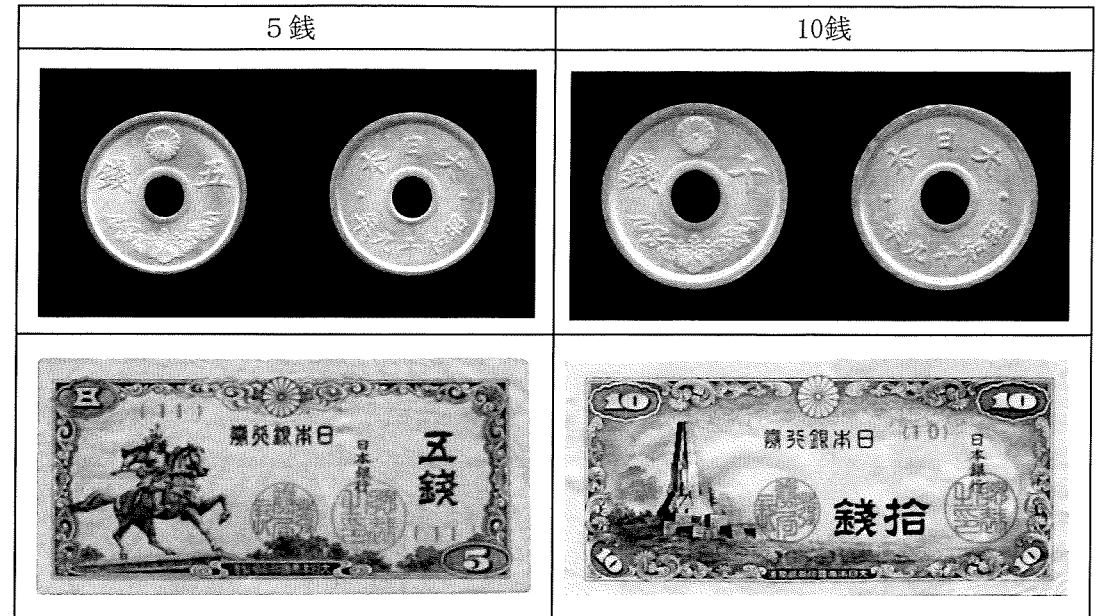
- A 日本は、日英同盟を結んでいたことを理由に、連合国側でロシアやフランスなどを相手に戦った。
- B 大戦中に日本は貿易輸出額を伸ばして好景気となり、「成金」と呼ばれる人々が現れた。

- ア. A-正 B-正 イ. A-正 B-誤
- ウ. A-誤 B-正 エ. A-誤 B-誤

問10 本文[1]～[5]の内容について述べた文ア～エのうち誤っているものを下から1つ選び、記号で答えなさい。

- ア. 天武天皇の時代から貨幣が用いられていたが、貨幣の発行が停止された平安時代では、人々は貨幣を使用しなくなった。
- イ. 豊臣秀吉は、文禄の役・慶長の役の軍事費をまかなうために新たな銀貨を作らせた。
- ウ. 江戸時代において、西日本では銀貨が用いられることが多く、東日本では金貨が用いられることが多かった。
- エ. 戦争や植民地の獲得^{かくとく}などを通して、日本は国外においても貨幣の発行を行うようになった。

問11 1944年になると、以下のような5銭や10銭のような少額の金属貨幣の製造が停止され、紙幣として発行されるようになりました。その理由はなぜか、当時の社会状況をふまえて説明しなさい。



3 次の文章を読み、あとの問いに答えなさい。

2024年7月17日、岸田文雄① 内閣総理大臣は旧優生保護法をめぐる裁判の原告の人たちと面会し、政府として謝罪しました。これは、7月3日に② 旧優生保護法のもとで障害などを理由に不妊手術を強制された人たちが国に賠償を求めた裁判のうち、仙台や東京などで起こされた5つの裁判について、最高裁判所大法廷が旧優生保護法は憲法違反だとして国に賠償を命じる判決を示したのを受けてのことです。

旧優生保護法は、1948年に③ 議員によって法案が提出され、参議院・衆議院での審議のうえ、いずれも全会一致で可決され、成立しました。「不良な子孫の出生を防止する」ことを目的に、障害者などに強制的に不妊手術ができると規定していました。そして、1996年にこの法律が改正されるまでに約2万5000人が手術を受けたとされています。

裁判長を務めた戸倉三郎④ 最高裁判所長官は「旧優生保護法の立法目的は当時の社会状況を考えても正当とはいえない」とし、子どもを産む能力を失わせるという重大な犠牲を求めるもので憲法第13条に違反すると指摘しました。また、障害がある人だけを手術の対象としたのは差別的な取り扱いで、法の下での平等を定めた憲法第14条にも違反するとしました。その上で、政策として障害がある人を差別した国の責任を「極めて重大」と指摘し、国に賠償を命じる判決が確定しました。この判決は裁判官15人全員一致の結論で、⑤ 法律の規定を最高裁判所が憲法違反と判断したのは、13例目です。

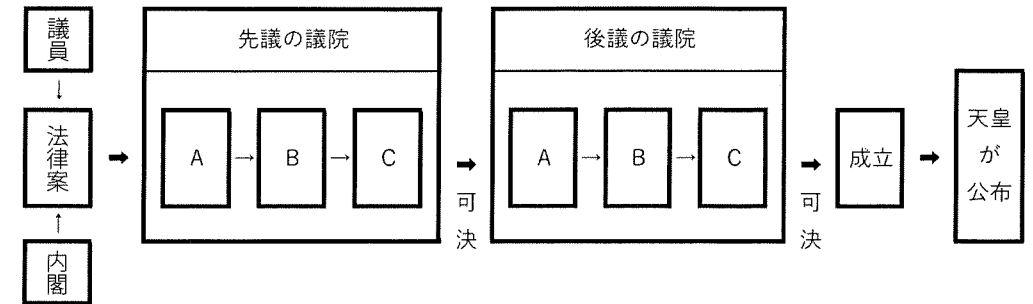
問1 下線部①について、下の文は内閣総理大臣の権限に関する日本国憲法第68条の条文です。空らん（ ）に入る適切な語句を漢字で答えなさい。

- ① 内閣総理大臣は、国务大臣を任命する。但し、その（ ）は、国会議員の中から選ばなければならない。
- ② 内閣総理大臣は、任意に国务大臣を罷免することができる。

問2 下線部②について、このように国に賠償を求める権利は日本国憲法が保障する基本的人権の1つです。基本的人権のうち、自由権にあたるものを下からすべて選び、記号で答えなさい。

- ア. 裁判を受ける権利
- イ. 自分の財産が保障される権利
- ウ. いかなる奴隷的拘束も受けない権利
- エ. 健康で文化的な最低限度の生活を営む権利
- オ. 各人の能力に応じてひとしく教育を受ける権利

問3 下線部③について、下の図は法律ができるまでをあらわしたものです。図中のA～Cにあてはまる語句を、下から1つずつ選び、記号で答えなさい。



- ア. 委員会
- イ. 公聴会
- ウ. 議長
- エ. 本会議
- オ. 両院協議会

問4 下線部④について、最高裁判所長官の任命は天皇の国事行為ですが、天皇の国事行為ではないものを下から1つ選び、記号で答えなさい。

- ア. 栄典の授与
- イ. 国会の召集
- ウ. 衆議院の解散
- エ. 条約の締結
- オ. 外国の大使や公使の接受

問5 下線部⑤について、最高裁判所が「憲法の番人」と呼ばれている理由を説明しなさい。