

〔社 会〕

○ 実施時間 【10:40~11:20】(40分)

○ 次の注意をよく読んでおくこと。

- (1) 「始め」の合図があるまで問題用紙を開かないこと。
- (2) 問題は 1 ~ 4、19 ページまであります。
- (3) 答えはすべて解答用紙の解答らんにはっきりと、ていねいに書きなさい。
- (4) 答えを直すときは、きれいに消してから書きなさい。
- (5) 内容に関する質問は受け付けません。
- (6) 気分が悪くなったり、トイレに行きたくなったりしたら、手をあげて監督の先生に合図しなさい。
- (7) 「終わり」の合図があったら、直ちに筆記用具を置き、解答用紙が回収されるまで待っていなさい。
- (8) 解答上の注意
字数指定のあるものは、句読点〔。、〕も一字と数えること。

受験 番号		氏 名	
----------	--	--------	--

1 次の文章を読み、あとの問いに答えなさい。

みなさんは将来、「都市」と「村落（農村）」ではどちらに住みたいと思いますか？
獨協中学校の社会の授業でこの質問をしてみると、おおよそ8対2から9対1程度に分かれます。多くの方が住みたいと考えるのはなぜなのか、「都市」について分析していきたいと思います。

では、まず「都市」と「村落」とはそれぞれどのような地域を指すのかを整理したいと思います。図1は獨協中学校の生徒に「都市と村落のイメージを描く」という課題を出したときに提出されたものです。これを描いた生徒は、都市には多くの高層建造物や発達した交通網があり、一方で、村落には建造物は少なく、代わりに①豊かな自然があると説明していました。このように、都市と村落の違いは景観からもはっきり読み取れますが、両者には機能の違いも存在します。つまり、都市と村落では、産業の構造が異なるということです。②都市では、第2次産業や第3次産業が発達しています。一方の村落では、第1次産業が中心産業になっています。このような地域の中心となる産業の違いが、都市と村落を特徴づけています。

日本では、都市に住む人の割合である都市人口率は90%を越えており、獨協中学校に通う生徒の場合では、ほぼ100%が都市に住んでいます。都市では便利で豊かな暮らしができるため、特に戦後には村落地域から都市地域へと人口が移動して、都市に住む人の割合がどんどん高くなっていきました。その結果、都市では様々な問題も発生するようになりました。

問題の1つは、住宅不足です。高度経済成長期には、東京や大阪などの大都市に人口が集中したため、都心部では住宅が不足していました。それを解消するために計画されたのが③ニュータウンの建設です。大阪では千里ニュータウンが、東京では多摩ニュータウンが、政府や鉄道会社などの企業の主導で建設されました。

その他の都市特有の問題として、交通渋滞や通勤ラッシュの増加があります。また、近年は④ヒートアイランド現象や、豪雨の際の⑤「都市型災害」の発生数が増えてきています。都市では便利で豊かな生活が手に入りますが、都市だからこそ直面する問題があるということも覚えておいてください。

内閣府の調査（2020年）によれば、いま日本で暮らす人々は、「物の豊かさ」よりも「心の豊かさ」を求める傾向にあり、特に大都市に住む人にその傾向が強く出ています。そこで注目されているのが、⑥自然が豊かな農村地域に宿泊し、自然や文化、人々との交流を楽しむ形の観光です。都市に住みながら農村の良さを知ることができ

るこの取り組みは、都市で暮らす人々に余暇としての楽しみを提供するだけでなく、農村の人々には新たな収入や、都市の住民との交流をもたらします。

都市と村落はお互いに独立しているわけではありません。どちらが欠けても社会が成り立たなくなってしまいます。例えば、⑦2024年9月、「令和の米騒動」と報道されるほどの米不足が発生しました。いまや輸入でどんな食料も手に入る時代になっていますが、自国で十分な食料を生産することができるようにすることは、国民生活の安心にもつながります。人口減少社会を迎えている日本では、どちらに住むか、どちらか1つを選ぶということではなく、どちらも共生していく方法を見つけることが必要です。便利な生活のできる都市と、豊かな自然のある農村、この両者が共生していく方法を⑧獨協の社会の授業で考えていきましょう。




図1

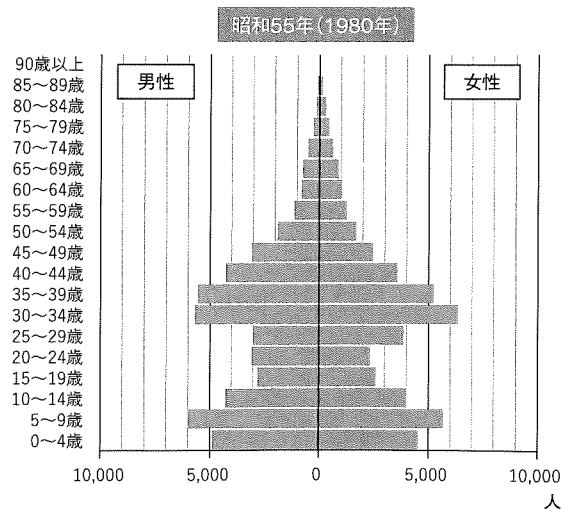
問1 下線部①について、日本の自然環境について述べた文として誤っているものを下から1つ選び、記号で答えなさい。

- ア. 日本は国土の4分の3が山地や丘陵地といった標高の高い地域となっている。
- イ. 河川は上流から扇状地→氾濫原^{はんらんげん}→三角州の順に特徴的な地形をつくっており、三日月湖はこのうち氾濫原で多く観察できる。
- ウ. 本州の中央部にはフォッサマグナという大きな溝^{みぞ}があり、この溝の西の端^{はし}に糸魚川-静岡構造線が形成されている。
- エ. 日本列島の太平洋側には黒潮と親潮が流れており、暖流の親潮によって太平洋側には温暖な気候がもたらされる。

問2 下線部②について、第3次産業^{さんぎょう}に含まれるものを下からすべて選び、記号で答えなさい。

- ア. 工場^{こうじょう}で車をつくる
- イ. 銀行^{ぎんこう}でお金を貸す
- ウ. 畑^{はたけ}で野菜をつくる
- エ. 鉄鉱石^{てつこうせき}から鉄鋼をつくる
- オ. 鉱山^{こうざん}で石炭をとる
- カ. レストラン^{れすとらん}で料理を提供する
- キ. 八百屋^{はちや}で野菜を売る
- ク. 海^{うみ}で魚をとる
- ケ. 都市^{とし}にビルを建てる

問3 下線部③に関連して、次の図は、ニュータウンの建設が進み、住民の入居が進んだあとの1980年時点の多摩市の人口ピラミッドです。人口ピラミッドがこのような形になっている理由を考えて説明しなさい。



問4 下線部④について、ヒートアイランド現象の原因を2つ以上の要素を含めて説明しなさい。

問5 下線部⑤に関連して、次の写真は、関東地方に建設された防災^{しせつ}関連施設です。この写真の施設の説明として正しいものを下から1つ選び、記号で答えなさい。



- ア. 河川の氾濫^{こうざい}による洪水を防ぐために建設された地下の放水路
- イ. 災害時に必要な食料や水を貯蓄^{ちよちく}しておくための巨大な地下倉庫^{きょだい}
- ウ. 災害発生時に首都圏の住民に避難場所を提供するために建設された避難施設
- エ. 噴火^{ふんか}等で地上の政府施設が使用できなくなったときに首都機能を移転させる施設

問6 下線部⑥のような観光のことを何といいますか、カタカナで答えなさい。

問7 下線部⑦に関連して、米をめぐる日本の政策について述べた次の文A～Cの正誤の組み合わせとして正しいものをア～クから1つ選び、記号で答えなさい。

- A 不作のときでも国民が安定して米が食べられるようにする備蓄米の制度が整えられ、10年に一度の不作にも供給できる量が蓄えられている。
- B 1970年代には食生活の変化によって米の消費量が落ちこんだため、減反政策を実施した。
- C 日本の米農家を保護するために、1995年以降、外国からの米の輸入は認められていない。

	ア	イ	ウ	エ	オ	カ	キ	ク
A	正	正	正	正	誤	誤	誤	誤
B	正	正	誤	誤	正	正	誤	誤
C	正	誤	誤	正	正	誤	正	誤

問8 下線部⑧に関連して、以下は都市と村落のことを授業で勉強したAさんとBさんが、それぞれ興味を持ったテーマについて調べてまとめた内容と感想です。空らん(⑨)に入る語句をカタカナで、(⑩)に入る語句を漢字で答えなさい。

Aさん

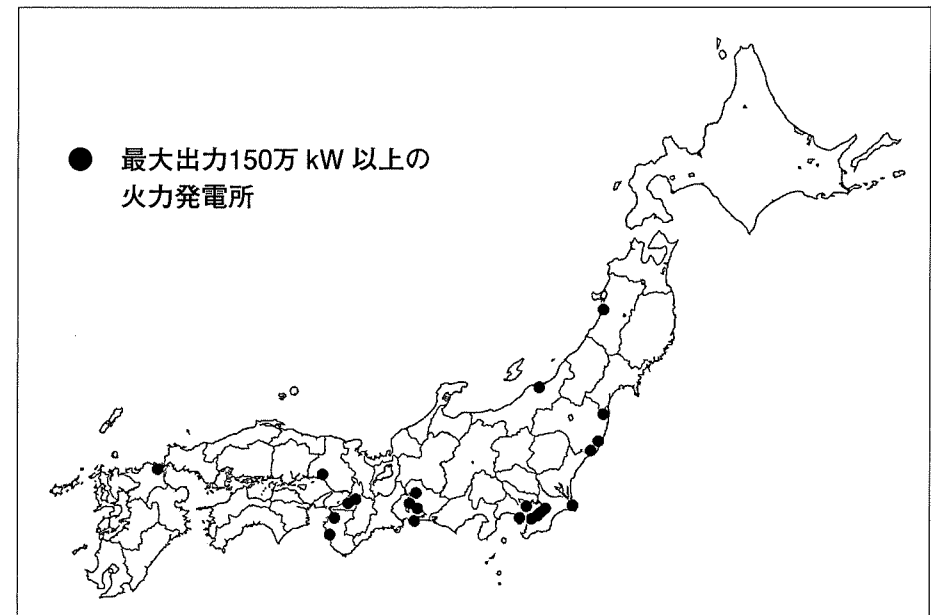
日本などの先進国の都市で発生する問題と、アフリカやアジアの途上国で発生する都市問題には違いがあることが分かった。途上国では人々は仕事を求めて農村から都市にやってくるが、お金が足りないために、許可なしで知り合いのアパートに住んだり、ホームレスになったりする人がたくさんいる。そうすると、地区の治安や衛生環境が悪くなり、(⑨)が形成されることがある。(⑨)にはストリートチルドレンなども多く、援助が必要な人がたくさんいる。そのような人たちを助ける取り組みを調べてみたいと思った。

Bさん

島根県の東部に位置する(⑩)湖は、国内7番目の広さの湖であり、古くから漁業がさかんに行われている。(⑩)湖で漁獲される魚介類の内、ヤマ

トシジミは、(⑩)湖の漁業生産量と生産額の9割を占め地域の重要な漁業資源となっている。地域水産業再生委員会が進める「浜の活力再生プラン」ではシジミ消費量の増大に向けたPR活動を積極的に実施し、地域や都市部における消費拡大を推進している。農村部の魅力を伝えるこのような活動に興味をもったので、引き続き調べていきたい。

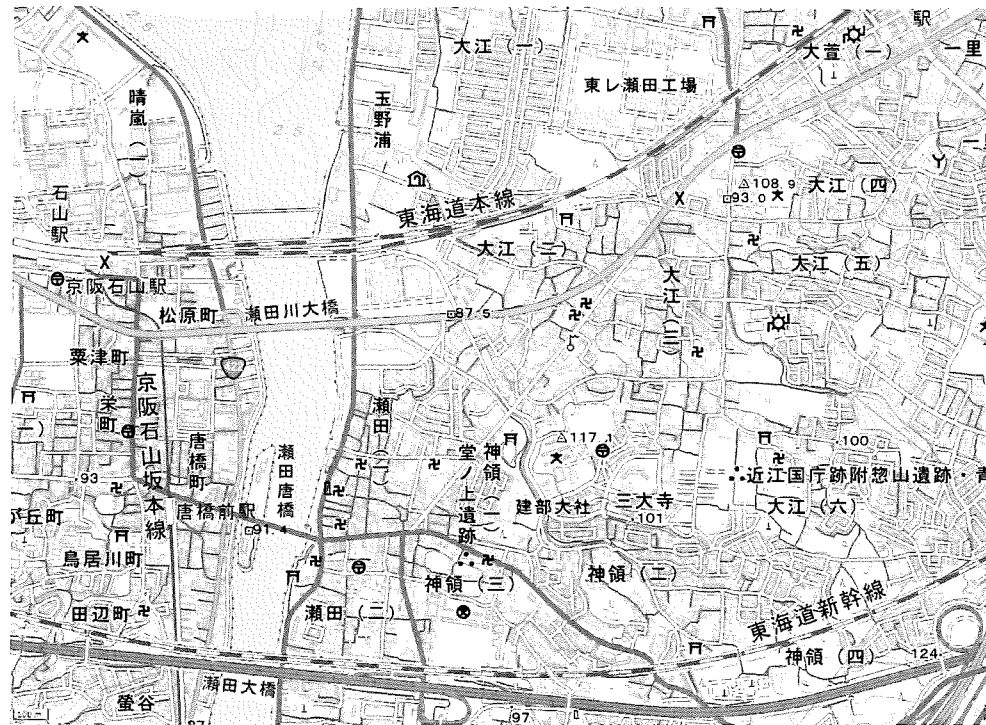
問9 次の地図は、おもな火力発電所の分布を示しています。この地図からは、火力発電所が特定の地域に密集していることが読み取れます。その理由として考えられることを説明しなさい。



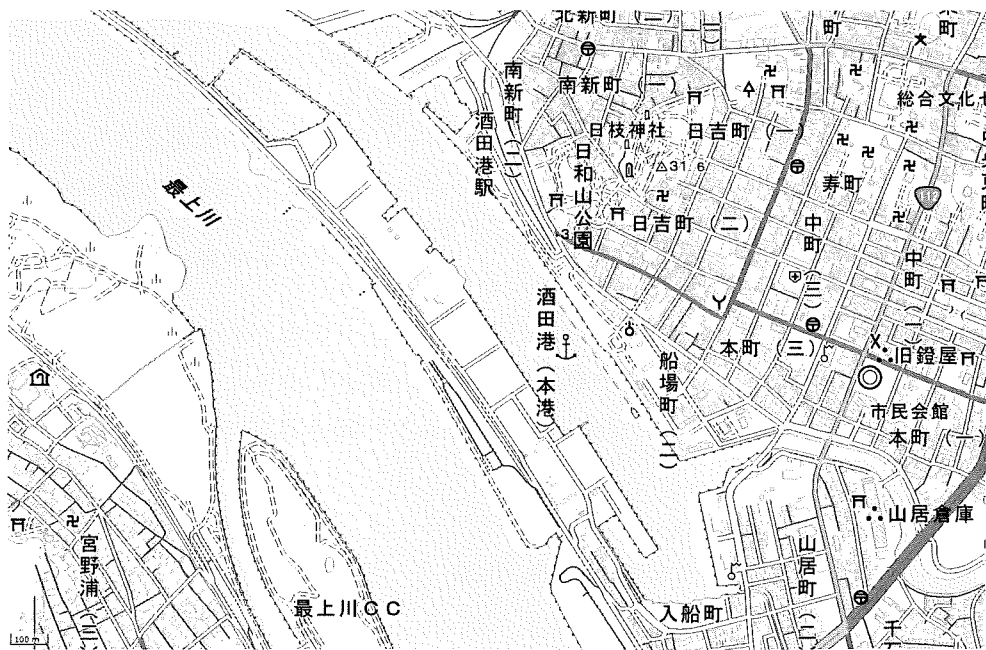
〔データでみる県勢2024〕より作成

2 次の地図A・Bについて、あとの問いに答えなさい。

地図A



地図B



(「地理院地図」より作成)

問1 地図Aの河川は下流部では名称が^{めいしょう}変わります。河川の名称の変わる順番を示したものと正しいものを下から1つ選び、記号で答えなさい。

- ア. 瀬田川→宇治川→淀川 イ. 瀬田川→淀川→宇治川
ウ. 瀬田川→千曲川→信濃川 エ. 瀬田川→信濃川→千曲川

問2 地図Aの北部には湖の一部がみられます。その湖の名称を漢字で答えなさい。

問3 地図Bのある都道府県名を漢字で答えなさい。

問4 地図Bの範囲に^{はんい}みられない地図記号はどれか、下から1つ選び、記号で答えなさい。

- ア. 消防署 イ. 老人ホーム ウ. 裁判所
エ. 市役所 オ. 保健所

[3] 犬の歴史に関する次の文章を読み、あとの問いに答えなさい。

[1] 犬は、人類が最初に家畜として飼いはじめた動物ともされています。縄文時代の遺跡からは埋葬された犬の骨や、犬の訓練につかっと思われる犬笛、また犬形の(①)も見つかっています。弥生時代の銅鐸には、イノシシを犬が取り囲むようすが描かれ、古墳時代でもイノシシを追い立てている犬の姿を装飾した須恵器が見つかっています。ここから、がわかります。

[2] 平城京にあった有力貴族の長屋王の邸宅跡からは、「御馬屋犬」「若翁犬」と書かれた木の札が出土しています。前者は馬屋の番犬ですが、後者はペットとしての犬の名前と考えられています。ペットと思われる犬は、都が平安京に移った後、清少納言の随筆『(②)』にも、「翁丸」という名前の犬が登場しています。犬は貴族の邸宅の中を駆け回っていたのかもしれませんが。

[3] 鎌倉時代の貴族の日記『明月記』には、犬追物の記事が見えています。これは、走る犬を追って競技で、以後、③室町時代にかけて、武芸の訓練として武士の間でよく行われました。なお、室町時代に成立した軍記物語の『太平記』によれば、鎌倉幕府の滅亡の原因は、執権北条氏の最後の当主が、犬どうしを戦わせることなどに熱中して政治をかえりみなくなったからだ、としています。

[4] 江戸幕府の5代将軍徳川綱吉は、④犬など動物の愛護を命じ、江戸内外に大量の犬を収容する大規模な小屋を設置させました。違反者への処罰はきびしかったため、反発した人々から綱吉は「犬公方」と冷やかされました。その綱吉は犬でもチンという小型犬を特にかわいがったとされます。チンは室内で飼う高級犬として、⑤江戸時代には将軍や大名、富裕な町人のペットになりました。

[5] ⑥明治時代になると、洋犬を連れてきた欧米人にならって、日本人もこぞって洋犬を飼うようになりました。以後、⑦大正時代にかけて、洋犬との交雑によって日本に昔からいた和犬(日本犬)は急速に姿を消します。そこで、⑧昭和時代の初めに日本犬保存会などの団体が発足し、日本犬復元運動が起こりました。秋田犬の「忠犬」ハチ公の物語も、この運動に一役買ったといえます。

[6] ⑨敗戦後、しばらくは犬はおもに家を守るための番犬として飼われ、1960年代までその傾向は続きました。一方、犬の放し飼いが少なくなり、また日本経済が高度成長を続けるなかで、小型犬を室内で飼うことが豊かさの象徴とみなされるようにもなったようです。1980年代以降、犬は「家族の一員」としての役割をはたすことが多くなり、現在に至っています。

問1 空らん(①)に入る適切な語句を漢字で答えなさい。

問2 空らん(②)に入る適切な語句を漢字で答えなさい。

問3 文章[2]の内容に関連して、奈良時代・平安時代のできごとを述べた文として、正しいものを下から1つ選び、記号で答えなさい。

ア. 奈良時代には、朝鮮半島の百済から日本に仏教が伝わった。

イ. 奈良時代には、中国の唐にならった大宝律令が完成した。

ウ. 平安時代には、東大寺の大仏の完成を祝う開眼式が行われた。

エ. 平安時代には、武士が天皇や貴族の身の安全を守る任務についた。

問4 下線部③の文化について説明した文として、誤っているものを下から1つ選び、記号で答えなさい。

ア. たたみや障子、ふすまなどを使った建築様式が広がり、床の間をかざる生け花もさかんになった。

イ. 人形浄瑠璃や歌舞伎が人々の楽しみとして広まり、芝居小屋がたくさん見物客でにぎわった。

ウ. 石や砂を用いて、水の流れや山の風景を表現する枯山水の庭園が数多くつくられた。

エ. 僧として修行しながら中国に渡って技能を高めた人物によって、日本風の水墨画の様式が完成された。

問5 次の【資料】は、下線部④の一部です。この【資料】から読みとれることを述べた文A～Cの正誤の組み合わせとして正しいものを下のア～クから1つ選び、記号で答えなさい。

【資料】

- 一、捨て子があれば、すぐに届け出ようとせず、その場所の者がいたわり、自ら養うか、または望む者がいれば、その者の養子にしない。決して届け出る必要はない。
- 一、鳥・家畜類で、人が傷つけたと思われるものについては、今まで通りに届け出なさい。その他、共食いや自ら傷つけたものについては、届け出なくてよい。それらをしっかり養育し、持ち主がいれば、返すようにしない。
- 一、飼い主がいない犬に、近ごろはえさをあたえないというようなことを聞く。結局、えさをあたえれば、その者の飼い犬のようになり、あとあと面倒なことになる^{めんどう}と考え、いたわらないと聞くが、けしからんことである。今後はそのようなことがないように心得なさい。
- 一、犬だけでなく、すべての生きものへ慈悲^{じひ}の心を基本にして、同情し思いやることが重要である。

- A 幕府は捨て子の報告は必要ないが、鳥・家畜類に対する虐待^{ぎゃくたい}については幕府に報告するように命じた。
- B 幕府は犬を收容するための小屋を設置しているため、飼い主がいない犬についてはえさを与えなくてもよいと命じた。
- C 幕府は人を含めたあらゆる生きものうち、犬についてのみ思いやりを持つように命じた。

	ア	イ	ウ	エ	オ	カ	キ	ク
A	正	正	正	正	誤	誤	誤	誤
B	正	正	誤	誤	正	正	誤	誤
C	正	誤	正	誤	正	誤	正	誤

問6 下線部④の名称を、解答らんにあわせて4字で答えなさい。

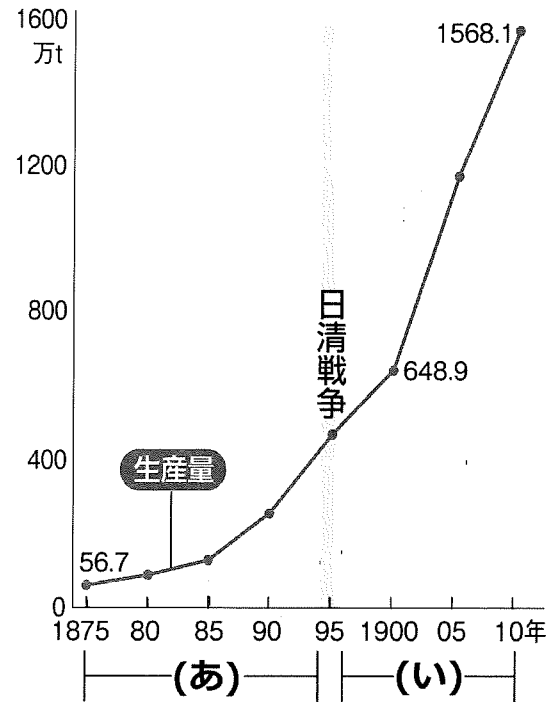
問7 犬はどのような役割をしていたと考えられますか、文章[1]の内容を踏まえて、空らん にあてはまる適切な文を答えなさい。

問8 次の図には、犬追物のようなすがすがしく描かれています。ここには、当時の武士の特徴があらわれています。それをふまえて、空らん にあてはまる適切な文を答えなさい。



問9 下線部⑤について、朝鮮との間では、12回にわたって朝鮮通信使が日本をおとずれたほか、釜山にある倭館という施設で貿易も行われました。朝鮮との交流の窓口になった藩の名前を漢字で答えなさい。

問10 次のグラフは、下線部⑥の石炭の生産量をあらわしています。グラフ中の日清戦争の後に生産量が増えた理由について説明した文X・Yと、(あ)の時期と(い)の時期におこったできごとについて説明した文a～dの組み合わせとして最も適するものを、下のア～クから1つ選び、記号で答えなさい。



『概説日本経済史 近現代』より作成

生産量が増えた理由	X 水力発電がすすんで電気を使うようになった。 Y 産業革命がすすんで蒸気機関を使うようになった。
できごと	a (あ)の時期に、八幡製鉄所がつくられた。 b (あ)の時期に、関税自主権が確立した。 c (い)の時期に、朝鮮を武力で開国させた。 d (い)の時期に、日英同盟を結んだ。

- ア. Xとa イ. Xとb ウ. Xとc エ. Xとd
オ. Yとa カ. Yとb キ. Yとc ク. Yとd

問11 下線部⑦に関連して、原敬内閣が成立した時期として正しいものを下の年表中の空らん ～ から1つ選び、記号で答えなさい。

- 第一次世界大戦に参戦する

米騒動が各地で起こる

関東大震災が起こる

普通選挙制度が定められる

問12 下線部⑧について、満州事変が起きたころの日本のようすについて述べた次の文A・Bの正誤の組み合わせとして正しいものを下から1つ選び、記号で答えなさい。

- A 一部の軍人や政治家などが、「広い満州を日本のものにすれば、日本は豊かになる」という考え方を広めていった。
B 都市では好景気のために労働者が増え、農村では作物の値段が上がって、生活が上向き人々が多くなっていた。

- ア. A-正 B-正 イ. A-正 B-誤
ウ. A-誤 B-正 エ. A-誤 B-誤

問13 下線部⑨について、戦後に行われた改革の結果として誤っているものを下から1つ選び、記号で答えなさい。

- ア. 経済復興のために独占的な大会社が結成された。
イ. 新たに法律が^{どくせん}つくられて労働者の権利が保障された。
ウ. 多くの農民が自分の土地をもつようになった。
エ. 6・3制の義務教育が始まり、男女共学になった。

問14 下線部⑨のころの国際社会について述べた次の文A・Bの正誤の組み合わせとして正しいものを下から1つ選び、記号で答えなさい。

A 1945年に国際連合がつけられ、日本はアメリカを中心とする連合軍の指令にもとづいて加盟した。

B 1951年にアメリカで講和会議が開かれたが、日本が戦争で大きな被害^{ひがい}を蒙った中国は会議に招かれなかった。

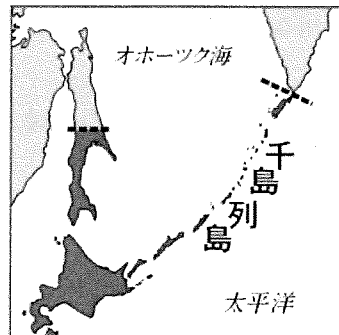
ア. A-正 B-正 イ. A-正 B-誤

ウ. A-誤 B-正 エ. A-誤 B-誤

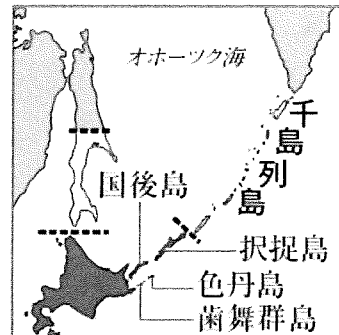
問15 明治時代から戦後にかけての日本の北方における領土の変化について、下の図A～Cと資料X～Zの組み合わせとして正しいものを右のア～カから1つ選び、記号で答えなさい。

図

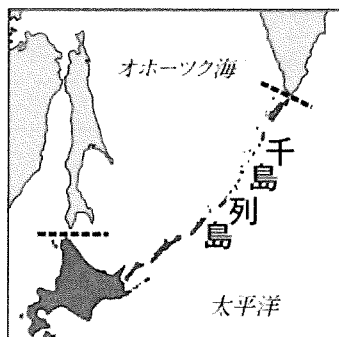
A.



B.



C.



資料

X 1 大日本帝国天皇陛下は永久に樺太を所有する権利をロシア皇帝に譲^{ゆず}り、今後、樺太はすべてロシア帝国に属し、宗谷海峡を両国の国境とする。
2 ロシア皇帝陛下は、1に記された樺太の権利をうけた代わりに、永久に現在ロシア領となっている千島列島を大日本帝国天皇陛下に譲る。

Y ロシア帝国政府は樺太南部とその付近におけるすべての島々を永遠に日本帝国政府に譲^{じょうよ}与する。その譲り渡す地域の北の限界は北緯50度と定める。

Z 日本は、千島列島と日本が1905年9月5日のポーツマス条約の結果として主権^{かくとく}を獲得した樺太に対するすべての権利^{ほうき}を放棄する。

	ア	イ	ウ	エ	オ	カ
A	X	X	Y	Y	Z	Z
B	Y	Z	X	Z	X	Y
C	Z	Y	Z	X	Y	X

4 次の文章を読み、あとの問いに答えなさい。

2024年7月1日、① 自衛隊は発足から70年を迎えました。1950年に朝鮮戦争が起ると、それをきっかけに設置された警察予備隊は、その後、保安隊となり、さらに1954年に自衛隊となりました。

自衛隊は、日本の平和と独立を守るため、国の防衛を主要な任務とする組織です。また、自衛隊は大規模な自然災害での人命救助、搜索や被災した方々への生活支援、被災地の復旧などの災害派遣や、海外での国際平和協力活動など、様々な役割を担ってきました。

しかし、その一方で、自衛隊や② 日本の安全保障のあり方については、③ 日本国憲法の規定との関係で、いまだに議論が続いています。

問1 下線部①について、自衛隊の最高の指揮監督権は誰にありますか、下から1つ選び、記号で答えなさい。

- ア. 天皇 イ. 防衛大臣 ウ. 統合幕僚長 エ. 参議院議長
オ. 衆議院議長 カ. 内閣総理大臣 キ. 最高裁判所長官

問2 下線部②について、日本と密接な関係にある国が攻撃を受け、日本の存立がおりやかされた場合に、日本が攻撃を受けていなくても自衛権を行使できるとする法改正が2015年に行われました。この自衛権を何といいますか、解答らんにあうように漢字で答えなさい。

問3 下線部③について、唯一の戦争被爆国である日本は、核兵器を「持たず、つくらず、持ちこませず」という基本方針を掲げています。この名称を漢字で答えなさい。

問4 下線部③について、下の文は日本国憲法第13条の条文です。この条文は、日本国憲法の三大原理のうち、どの原理について述べたものか答えなさい。

すべて国民は、個人として尊重される。生命、自由及び幸福追求に対する国民の権利については、公共の福祉に反しない限り、立法その他の国政の上で、最大の尊重を必要とする。

問5 下線部③について、下の文は日本国憲法第9条の条文です。空らん（ A ）・（ B ）に入る適当な語句の組み合わせとして正しいものを下から1つ選び、記号で答えなさい。

- ① 日本国民は、正義と秩序を基調とする国際平和を誠実に希求し、国権の発動たる戦争と、（ A ）による威嚇又は（ A ）の行使は、国際紛争を解決する手段としては、永久にこれを放棄する。
② 前項の目的を達するため、陸海空軍その他の（ B ）は、これを保持しない。国の交戦権は、これを認めない。

- ア. A－武力 B－実力 イ. A－武力 B－戦力
ウ. A－戦力 B－実力 エ. A－戦力 B－武力
オ. A－実力 B－戦力 カ. A－実力 B－武力