

## 〔社 会〕

○ 実施時間 【10:40~11:20】(40分)

○ 次の注意をよく読んでおくこと。

- (1) 「始め」の合図があるまで問題用紙を開かないこと。
- (2) 問題は ① ~ ③、17 ページまであります。
- (3) 答えはすべて解答用紙の解答らんにはっきりと、ていねいに書きなさい。
- (4) 答えを直すときは、きれいに消してから書きなさい。
- (5) 内容に関する質問は受け付けません。
- (6) 気分が悪くなったり、トイレに行きたくなったりしたら、手をあげて<sup>かんとく</sup>監督の先生に合図しなさい。
- (7) 「終わり」の合図があったら、直ちに筆記用具を置き、解答用紙が回収されるまで待っていなさい。
- (8) 解答上の注意  
字数指定のあるものは、句読点〔。、〕も一字と数えること。

受験番号		氏名	
------	--	----	--

1 社会の授業における次の対話文を読み、あとの問いに答えなさい。

先生：交通輸送は私たちの生活にとって欠かせないものになっています。今日はみなさんに各輸送手段の特徴を発表してもらいます。

生徒A：わたしは、鉄道輸送について調べました。鉄道は【 I 】輸送手段です。かつては日本の交通の中心でした。現在は新幹線・JR・私鉄などの鉄道網が大都市を中心に発達しています。① 静岡工区の着工が遅れていますが、リニア中央新幹線の整備も進められています。また、二酸化炭素の排出量が少なく、環境にやさしいことなどから、鉄道輸送は見直されてきています。ヨーロッパで導入が進んでいる、LRT（ライトレールトランジット）と呼ばれる路面電車も人と環境にやさしい交通として評価されており、日本国内では② 富山市・③ 広島市・④ 宇都宮市などの都市で運行されています。

生徒B：わたしは、自動車輸送について調べました。⑤ 自動車は【 II 】輸送手段です。都市どうしを結ぶ高速道路は、自動車の高速移動を可能にしており、現在自動車は陸上交通の中心となっています。しかし、鉄道に比べるとエネルギー消費効率が悪く、大気汚染や二酸化炭素の排出量の増加などが問題となっています。そのため、近年は、自動車から鉄道や船舶による輸送に転換する（⑥）が進められています。また、⑦ 2024年には運送を担う人手の不足がさらに加速することが問題になっています。

生徒C：わたしは、船舶輸送について調べました。船舶は【 III 】輸送手段です。近年は、船舶の専用化や大型化が進められています。なかでも、石油や⑧ 液化天然ガスを運ぶタンカーやコンテナ船、鉄鉱石・自動車などを運ぶ専用船などが各大陸間を結び、海外貿易のうえで重要な役割を果たしています。国内輸送では、フェリーが長距離輸送に利用され、野菜などの産地と大都市を結んでいます。また、名古屋港・横浜港・⑨ 神戸港は全国でも有数の貿易港です。

生徒D：わたしは、航空輸送について調べました。航空機は【 IV 】輸送手段です。果実や⑩ 野菜などの食料品や生け花など、鮮度を保つことが重要なものの輸送に利用されることが多くなっています。また、IC・レアメタル・ダイヤモンドなどの⑪ 品物は航空機での輸送が中心になっています。

先生：みなさんありがとうございます。輸送手段の特徴に合わせて人・物が運ばれていることが分かりました。

現在、世界で起きている⑫ 気候変動の原因の一つに、二酸化炭素の排出量の増加があります。そのため、何人か発表してくれたように、交通輸送の二酸化炭素の排出削減が課題の一つです。例えば、自動車では電気自動車やガソリンエンジンと電気モーターを組み合わせて走行する（⑬）車の普及が進んでいます。交通輸送のあり方も今後変わっていくかもしれませんね。

問1 空らん【 I 】～【 IV 】に入る文を下から1つずつ選び、記号で答えなさい。

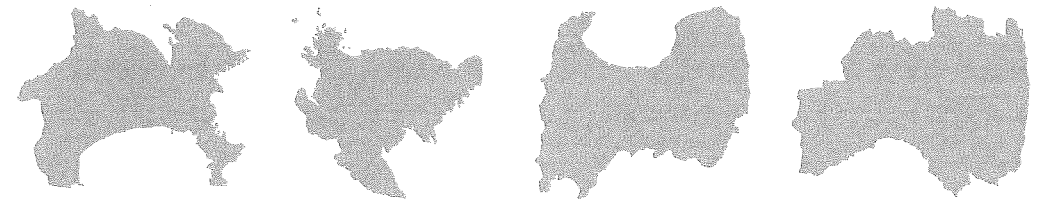
- ア. 遠い距離をととても短い時間で運ぶことができる
- イ. 大量輸送ができ、かつ正確な時間に運ぶことができる
- ウ. 荷物を積みかえずに家や工場まで運ぶことができる
- エ. 輸送に時間がかかるが、安い運賃で運ぶことができる

問2 下線部①に関連して、静岡県を流れる川として誤っているものを下からすべて選び、記号で答えなさい。

- ア. 富士川
- イ. 天竜川
- ウ. 木曾川
- エ. 大井川
- オ. 信濃川

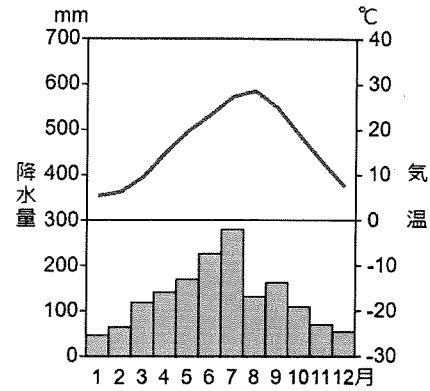
問3 下線部②に関連して、富山県の形として正しいものを下から1つ選び、記号で答えなさい。ただし、縮尺は同じであるとは限りません。

- ア.
- イ.
- ウ.
- エ.

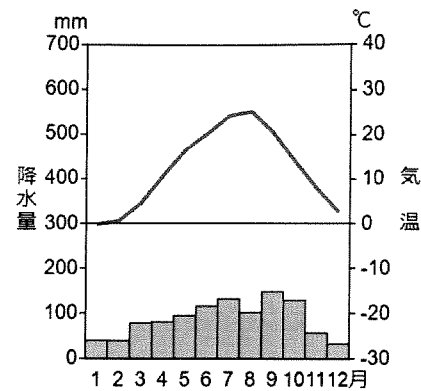


問4 下線部③の雨温図として正しいものを下から1つ選び、記号で答えなさい。なお、他の雨温図は、熊本市・松本市・山形市です。

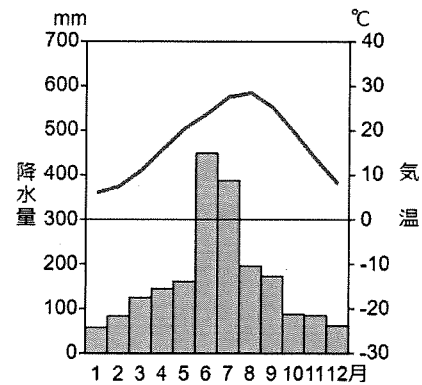
ア.



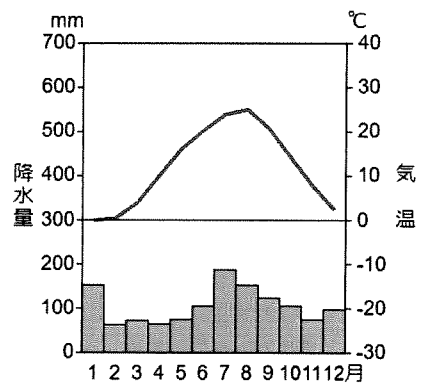
イ.



ウ.



エ.



問5 下の地形図は、下線部④のある地域を示したものです。地形図から読み取れることについて述べた文として正しいものを下からすべて選び、記号で答えなさい。



(「地理院地図」より作成)

- ア. 神社よりも寺院のほうが数が多い。
- イ. 「宇都宮駅」から西に向かってLRTは走っている。
- ウ. 「東武宇都宮駅」から「宇都宮駅」まで行くには川を越えなければならない。
- エ. 「県庁」から道に沿って南にまっすぐ進むと市役所がある。
- オ. 「宇都宮駅」から600m以内に警察署がある。

問6 下線部⑤の生産において、部品の在庫を少なくするために、関連工場から必要な時に必要な数だけ、組み立て工場に納める仕組みを何といいますか、解答らんに合わせて答えなさい。

問7 空らん( ⑥ )に入る適切な語句を下から1つ選び、記号で答えなさい。

- ア. モータリゼーション    イ. パークアンドライド    ウ. コールドチェーン  
エ. トレーサビリティ    オ. モーダルシフト

問8 下線部⑦の問題は「2024年問題」といわれています。人手不足がさらに加速する原因を説明しなさい。

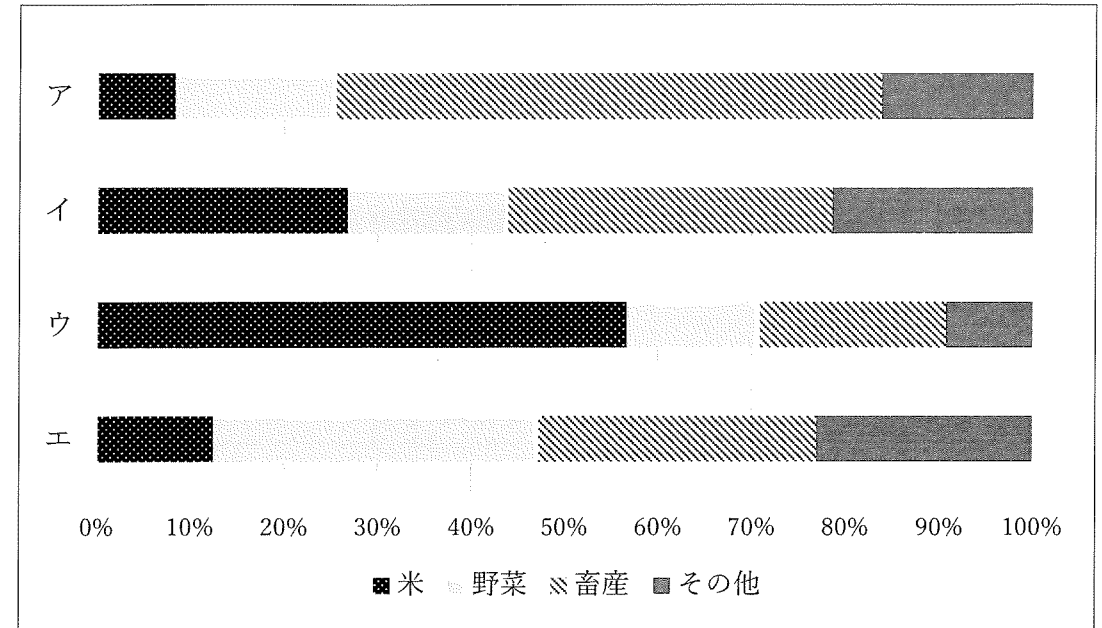
問9 下線部⑧に関連して、以下の表は日本の木材・石油・天然ガス・鉄鉱石の主な輸入相手国を表したものです。天然ガスを表したものとして正しいものを下から1つ選び、記号で答えなさい。

ア		イ	
オーストラリア	42.7%	サウジアラビア	39.4%
マレーシア	16.7%	アラブ首長国連邦	37.8%
ロシア	9.5%	クウェート	8.2%
アメリカ	5.7%	カタール	7.0%
パプアニューギニア	5.3%	エクアドル	1.9%
ウ		エ	
オーストラリア	60.2%	カナダ	22.8%
ブラジル	28.0%	アメリカ	18.2%
カナダ	5.9%	スウェーデン	11.6%
南アフリカ	2.9%	フィンランド	10.8%
アメリカ	1.0%	ロシア	10.3%

(『統計要覧 2024年版』より作成)

問10 下線部⑨がある都道府県名を漢字で答えなさい。

問11 下線部⑩に関連して、以下のグラフは、北海道、北陸地方、関東・東山地方、東北地方の農業生産額における、米・野菜・畜産の割合を表したものです。関東・東山地方を示すものを下から1つ選び、記号で答えなさい。なお、東山地方は長野県・山梨県を指します。



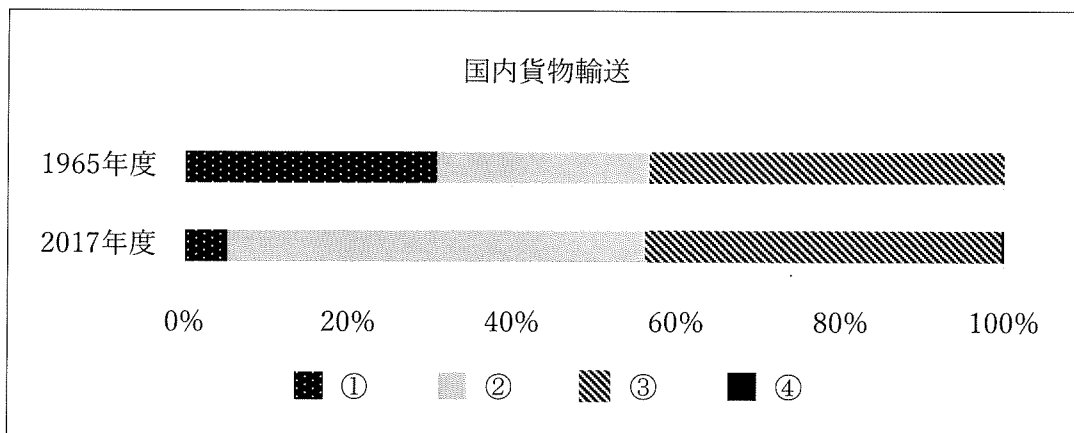
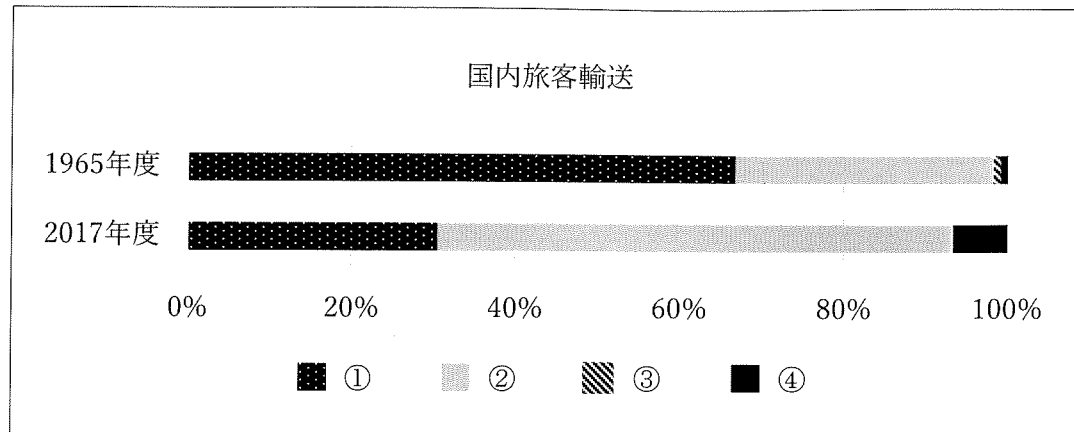
(『日本国勢図会2024/25』より作成)

問12 空らん( ⑪ )に2つの要素を入れつつ本文を完成させなさい。

問13 下線部⑫に関連して、2015年に採択された気候変動問題に関する国際的な枠組みの名称を答えなさい。

問14 空らん( ⑬ )に入る適切な語句を解答らんに合わせて、カタカナで答えなさい。

問15 以下のグラフは日本の国内旅客輸送と国内貨物輸送の移り変わりを示したものです。グラフ上の①～④は自動車・航空・船舶・鉄道のいずれかです。以下のグラフを説明した次の文A・Bの正誤の組み合わせとして正しいものを下から1つ選び、記号で答えなさい。



(『数字でみる日本の100年』より作成)

- A 国内旅客輸送・国内貨物輸送ともに割合の減っている①は、二酸化炭素の排出量の削減のために使用が控<sup>ひか</sup>えられている、自動車だと考えられる。
- B 国内旅客輸送において割合の増えている④は、生活が豊かになるにつれて利用する人々が増えた、航空だと考えられる。

- ア. A-正 B-正      イ. A-正 B-誤  
 ウ. A-誤 B-正      エ. A-誤 B-誤

このページに設問はありません

2 次の文章は、弥生・奈良・鎌倉・江戸・明治・昭和時代のいずれかについて示したものです。これらを読んで、あとの問いに答えなさい。

【1】 この時代には、新しく政治の中心となる幕府が開かれました。これにより、京都や奈良にならぶ都市がつけられました。若宮大路とよばれる道路を中心に、南北3本・東西3本の大路により<sup>ごぼん</sup>基盤の目状の道路が整備され、武士の<sup>やしき</sup>屋敷や多くの寺社が立ち並びました。一方、農村の農民たちは、<sup>しゅうかくりょう</sup>収穫量を増やす様々な努力をしました。西日本では、稲を刈ったあとに麦をつくる農業が行われるようになりました。農業の生産が高まると商業も盛んとなり、備前国福岡の市に見られるような、① 取り引きのために毎月決まった日に開催される市が、各地にできました。

問1 次の文Ⅰ～Ⅲは【1】の時代の出来事ですが、時代の古い順番に並べるとどのようになりますか、正しいものを下から1つ選び、記号で答えなさい。

- Ⅰ. 後鳥羽上皇は幕府を倒そうとして、執権を討つ命令を全国に発した。
- Ⅱ. 北条泰時は武士のしきたりや頼朝以来の先例にもとづいた法をつくった。
- Ⅲ. 生活に困った御家人を救うために土地の取返しができる法が出された。

- ア. Ⅰ－Ⅱ－Ⅲ      イ. Ⅰ－Ⅲ－Ⅱ      ウ. Ⅱ－Ⅰ－Ⅲ
- エ. Ⅱ－Ⅲ－Ⅰ      オ. Ⅲ－Ⅰ－Ⅱ      カ. Ⅲ－Ⅱ－Ⅰ


問2 下線部①のような市が開催された場所の名残りとして、日本各地に四日市や五日市というような地名が残されています。例えば五日市の場合は、定期市としてひと月のなかで、いつ市が開かれたと考えられますか、その日にちをすべて答えなさい。

【2】 この時代には、中国や朝鮮から移り住んだ人々によって水田を利用した米作りが伝えられました。人々は米作りに適した土地に集団で定住するようになり、各地に村をつくりました。そして、佐賀県の吉野ヶ里遺跡に見られるような大きな集落もつけられました。この集落には、まわりに深い堀がほられ、高い土手がつけられ、遠くまで見渡せる物見やぐらも建てられました。② これらのことから、村同士の戦いが起こっていたことがわかります。

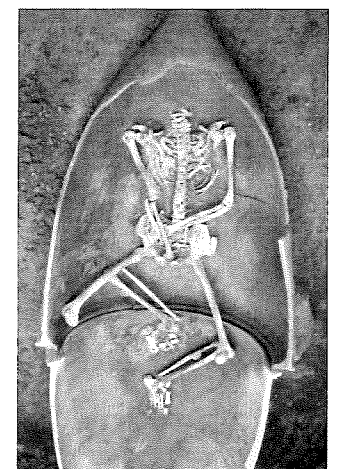
問3 【2】の時代の特徴を述べた文として正しいものを下から1つ選び、記号で答えなさい。

- ア. 前の時代の土器に比べて、厚くてかたく、多くの<sup>かざ</sup>模様や<sup>ほどこ</sup>飾りが施された土器が使用された。
- イ. 米の生産を増やすため水田の開発や用水路の建設が行われ、これらを指導する役割をもつ人物も現れた。
- ウ. 大陸から青銅器や鉄器が伝わると、祭りのための銅鐸や農具としての鉄製の鍬の刃先などが使用され、石器はまったく使用されなくなった。
- エ. 30の国を従える女王があらわれ、朝鮮に使者を送り、朝鮮の皇帝から王に任命されるとともに、金印や銅鏡などが<sup>あた</sup>与えられた。

問4 下線部②のように、この時代は戦争がはじまった時代ともいわれています。次の吉野ヶ里遺跡の全体の写真や吉野ヶ里遺跡の墓地から発見されたかめ棺の写真から戦争が開始されたとわかる理由を説明しなさい。



【写真1】吉野ヶ里遺跡



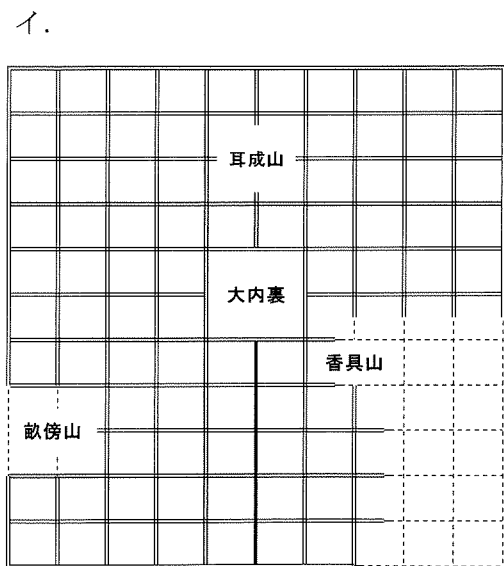

【写真2】かめ棺

【3】 この時代には、大和国に中国の都を模した③ 大きな都がつけられました。道路が碁盤の目のように通り、都の北部には天皇の住居である内裏や役所があり、また、多くの寺院、貴族の邸宅が立ち並んでいました。一方、村では多くの農民は、竪穴住居に暮らしていました。農民には戸籍に基づいて、6歳以上の男女に土地が割り当てられ、さまざまな負担を行っていました。農民のなかには都からの帰りに飢えや病気で死亡したり、土地を捨てて村を逃げ出すものもいました。

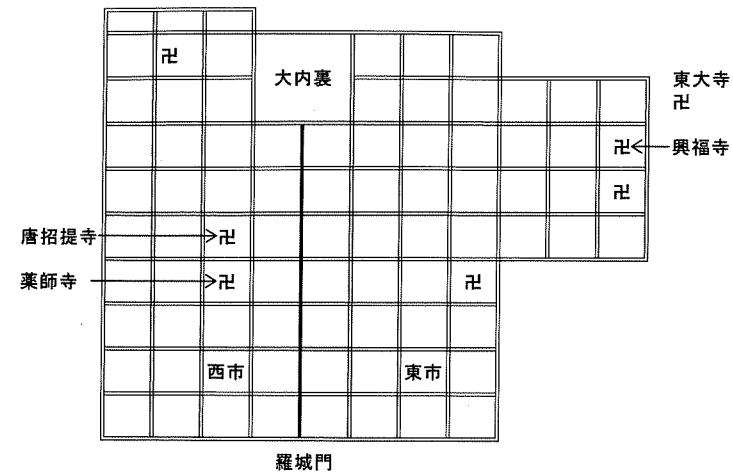
問5 【3】の時代のできごとについて述べた文として誤っているものを下から1つ選び、記号で答えなさい。

- ア. 空海は、高野山金剛峰寺をつくり真言宗を広めた。
- イ. 聖武天皇が、<sup>みことのり</sup>詔を出して各国に国分寺・国分尼寺をつくらせた。
- ウ. 鑑真は、五度の失敗をかさね日本にたどり着き、仏教を広めた。
- エ. 行基は、橋をかけ、池を掘るなど民衆のためにつくした。

問6 下線部③の都にあたる図を次のア～ウから1つ選び、記号で答えなさい。



ウ.



【4】 この時代には、幕府が開かれ、「将軍のおひざもと」として政治の中心となる大都市がつけられました。幕府は、ここを中心に④ 幹線道路として五街道を整備しました。また、商業の発達、人々の生活にゆとりをもたらし、⑤ 町人による文化活動も盛んとなりました。一方、百姓は村に住んで農業を行い、武士の収入となる年貢を納めました。また、百姓は新田開発や農具の改良を行うとともに、売ることを目的とした⑥ 商品作物の栽培も行いました。

問7 下線部④で五街道が整備された理由を、この時代に特徴的な制度との関係から説明しなさい。

問8 下線部⑤について、大坂の町人出身で、町人や武士の生活や気持ちをありのままに描き出した浮世草子の作者である人物の名前を漢字で答えなさい。

問9 下線部⑥の商品作物でないものを下からすべて選び、記号で答えなさい。

- ア. 茶    イ. 菜種    ウ. 米    エ. 綿花    オ. 小麦    カ. 紅花

【5】 この時代には、⑦ 人々の生活の中に西洋風の文化が取り入れられるようになりました。大都市では赤レンガの洋館がつくられ、ガス灯がつけられ、人力車や馬車がゆきかいました。また、人々は洋服を着て帽子をかぶるなど生活に変化が見られるようになりました。一方、地方や農村での生活は、ほとんど変化がありませんでした。政府による⑧ 様々な改革は、地方の農民たちの負担を増やし、政府のやり方に不満を持つ農民たちは、各地で一揆を起こすことになりました。また、士族も⑨ 新政府への反乱を起こしました。

問10 下線部⑦を何と呼びますか、漢字4字で答えなさい。

問11 下線部⑧の改革について述べた文として正しいものを下から1つ選び、記号で答えなさい。

- ア. 満20歳以上の男女に、3年間の兵役をかす徴兵制を定めた。
- イ. 土地の値段の3%を全国一律に、米で納めさせる地租改正を行った。
- ウ. 貧しい農家の子どもを除いた国民に、教育を受けさせる学制を定めた。
- エ. 誰もが名字を名乗り、職業・居住を自由に決められるようになった。

問12 下線部⑨の反乱のなかで、1877年に鹿児島県の不平士族が、最後で最大となる武力による反乱を起こしました。この反乱の名前を漢字で答えなさい。

【6】 この時代のはじめのころは戦争の時代でした。戦争中には、⑩ 多くの都市が空襲を受けて、大都市の小学生は、被害を避けるために親のもとを離れ、強制的に田舎に移動させられました。終戦後も都市では物価が高く、食料が不足して、列車に乗って農村に買い出しに行ったり、やみ市で買ったりするなど苦しい生活がつづきました。一方、戦後には連合軍の日本政府への指示により⑪ 民主化政策が行われ、農地改革では農村に多くの自作農が作られました。

問13 下線部⑩のように日本の各地の都市がアメリカ軍の爆撃機によって空襲されるようになった原因は、ある島がアメリカ軍に占領されたことによります。この島を下から1つ選び、記号で答えなさい。

- ア. 沖縄島      イ. 硫黄島      ウ. サイパン島
- エ. ハワイ島      オ. ミッドウェー島

問14 下線部⑪の民主化政策の内容を述べた文として正しいものを下から1つ選び、記号で答えなさい。

- ア. 新しい憲法が5月3日に公布され、11月3日に施行された。
- イ. 満18歳以上の男女に選挙権が与えられた。
- ウ. 治安維持法は維持され、一部をのぞいて政党の活動が復活した。
- エ. 教育基本法が定められ、教育勅語が失効した。



3 次の文章を読み、あとの問いに答えなさい。

① 国連難民高等弁務官事務所は、2024年6月13日、紛争や迫害で国内外に避難を余儀なくされた人々が2023年末時点で1億1730万人に上り、過去最多だった2022年末の数を更新したとの報告書を公表しました。② 日本の人口とほぼ同じくらいの人々が、世界各地で避難を強いられていることとなります。

報告書では、2023年4月に勃発したアフリカ北東部のスーダンでの武力衝突や、同年10月に始まったパレスチナの(③)地区での戦闘が、新たな増加要因になったと指摘しています。

④ 紛争や迫害などが原因で故郷を追われた人々のうち、国境を越えて国外に逃れた人々を「難民」、自国内の他の地域に避難している人々を「国内避難民」と呼びます。このうち、難民の合計は4340万人に上ります。一方、国内避難民は6830万人で、スーダンやシリア、コロンビアなどで多くなっています。難民・国内避難民全体の約40%は18歳未満の子どもで、親を失った子どもたちも少なくありません。

グランディ⑤ 国連難民高等弁務官は「これらの厳しい現実、数字の増加の裏側には、数えきれないほどの悲劇があります。その苦しみを前に、国際社会は立ち上がり、難民問題の根本的原因に緊急に取り組まなければなりません」と訴えています。

問1 下線部①について、国連難民高等弁務官事務所の略称を何といますか。正しいものを下から1つ選び、記号で答えなさい。

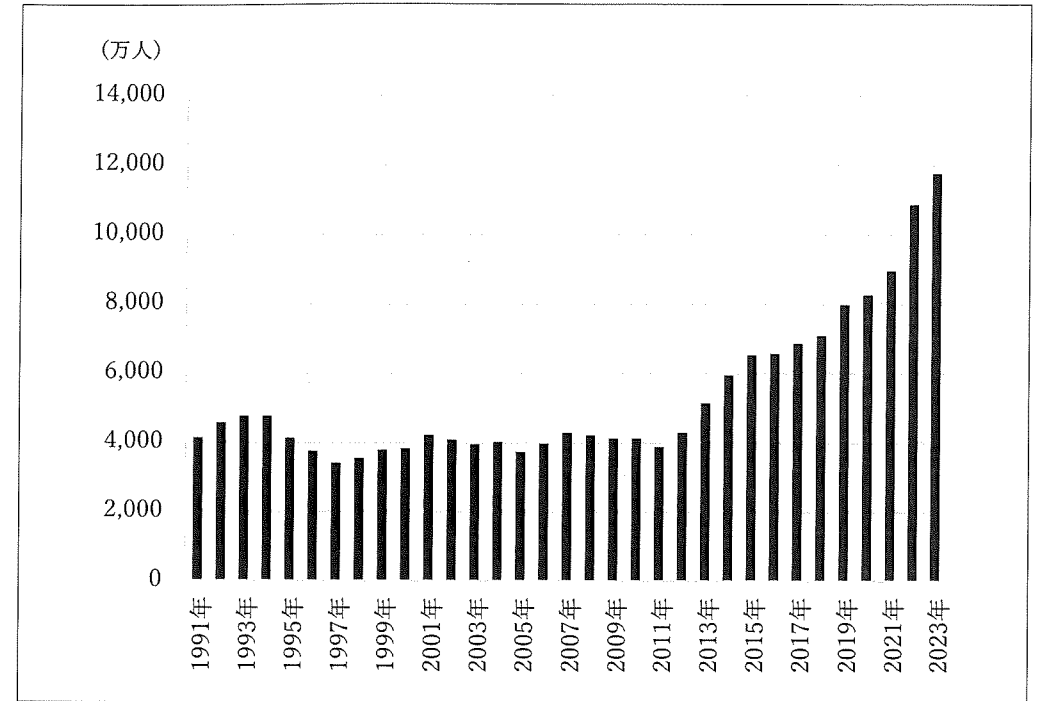
- ア. UNEP      イ. UNHCR      ウ. UNESCO  
エ. UNICEF      オ. UNCTAD

問2 下線部②について、日本に難民申請をしてきた人に対して難民認定を行う出入国在留管理庁が所属している省の名前を下から1つ選び、記号で答えなさい。

- ア. 外務省      イ. 厚生労働省      ウ. 総務省  
エ. 防衛省      オ. 法務省

問3 空らん(③)に入る適当地名をカタカナで答えなさい。

問4 下線部④について、下のグラフは1991年から2023年までの世界の難民・国内避難民などを合わせた数の推移を示したものです。そこから読み取れる内容について述べた次の文A・Bの正誤の組み合わせとして正しいものを下から1つ選び、記号で答えなさい。



(「国連難民高等弁務官事務所 Global Trends 2023」より作成)

- A ソビエト連邦が崩壊した年から、数はいったん減少した。  
B 東日本大震災がおこった年の数と2023年の数を比べると、数は約2倍となった。

- ア. A-正 B-正      イ. A-正 B-誤  
ウ. A-誤 B-正      エ. A-誤 B-誤

問5 下線部⑤について、2000年末までの10年間、国連難民高等弁務官として難民問題の解決のために活躍した日本人の名前を漢字で答えなさい。